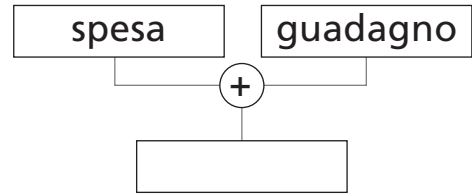


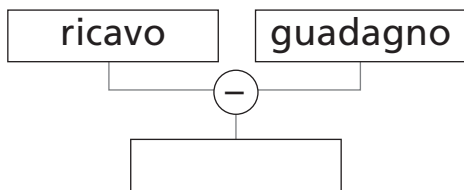
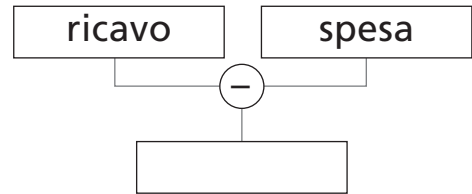
# SPESA, GUADAGNO, RICAVO, PERDITA

1 Completa le tabelle e gli schemi con le regole della **compravendita**.

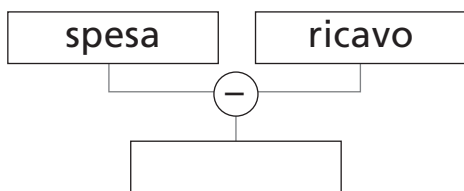
spesa	guadagno	ricavo	perdita
€ 3 000	€ 500	€ .....	/
€ 7 000	€ 700	€ .....	/
€ 4 000	€ 600	€ .....	/



spesa	guadagno	ricavo	perdita
€ 5 000	€ .....	€ 9 000	/
€ 2 000	€ .....	€ 7 000	/
€ 6 000	€ .....	€ 8 000	/




spesa	guadagno	ricavo	perdita
€ .....	€ 2 000	€ 11 000	/
€ .....	€ 1 000	€ 9 000	/
€ .....	€ 3 000	€ 12 000	/



spesa	guadagno	ricavo	perdita
€ 8 000	/	€ 7 000	€ .....
€ 10 000	/	€ 8 000	€ .....
€ 9 000	/	€ 6 000	€ .....

2 Completa le frasi e cancella l'alternativa sbagliata.



- Al negozio di alimentari il venditore espone i prodotti a un certo prezzo, che per lui è il .....
- Il venditore aveva pagato quei prodotti *più/meno* del prezzo con cui li ha messi in vendita. Quel costo per lui era la .....
- Con la vendita al cliente, il venditore realizza un .....