

## Classe 5<sup>°</sup>C disciplina: Geografia

- Lettura, comprensione e sottolineatura del testo in riferimento alla regione da studiare.
- Disegnare la carta geografica della regione.
- Rappresentare un areogramma quadrato, colorando i quadratini corrispondenti alle percentuali proposte nel grafico in riferimento alle zone di **pianura**, di **collina**, di **montagna**.
- Rappresentare un areogramma quadrato, colorando i quadratini corrispondenti alle percentuali proposte nel grafico in riferimento ai settori produttivi: **primario**, **secondario**, **terziario**.
- Dopo aver svolto queste indicazioni sul quaderno andate a pagina pulita e scrivete al centro del foglio  
**Mi metto alla prova.**

Mi metto alla prova

Toscana da pag 146 a 149

- 1 Con quali regioni confina la Toscana?
- 2 Qual è il capoluogo regionale? Come si chiamano le città?
- 3 Come si chiama la più importante catena montuosa che si estende a nord-est della regione?
- 4 In Toscana c'è una catena montuosa che non ha il nome "Appennino": qual è?
- 5 Quali rilievi si trovano a sud della regione?
- 6 Dove sono situate le aree collinari?
- 7 Quali sono i maggiori fiumi della regione? Dove sfociano?
- 8 Come si chiamano le isole dell'Arcipelago Toscano?
- 9 Che cosa sono i Tomboli?
- 10 Che cosa si coltiva nelle zone collinari?
- 11 Che cosa si produce nei campi?
- 12 Elenca le principali attività industriali della regione.
- 13 In quale zona della regione è sviluppato il turismo?




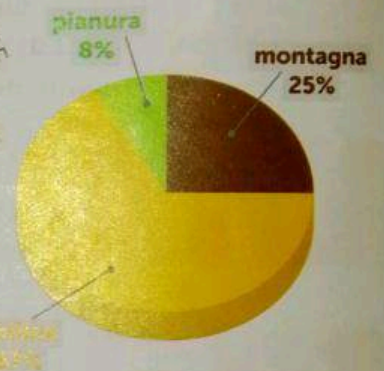
# TOSCANA

Le regioni centrali

<b>Popolazione</b>	3.742.437 ab.
<b>Densità</b>	163 ab./km <sup>2</sup>
<b>Superficie</b>	22.987,04 km <sup>2</sup>

## Province

**Firenze, Arezzo, Grosseto, Livorno, Lucca, Massa-Carrara, Pisa, Pistoia, Prato, Siena**



▲ Arcidosso, uno dei borghi caratteristici ai piedi del monte Amiata.

## Elementi naturali

Gran parte del territorio toscano è occupato da **colline**, mentre le **pianure**, denominate Valdarno e Maremma, **sono poco estese**. Gli **Appennini** costituiscono un arco che si estende nella zona nord-est della Toscana e sono caratterizzati da cime poco elevate. Nel territorio toscano, inoltre, sono presenti altre due formazioni montuose: le **Alpi Apuane**, così chiamate per l'aspetto simile a quello delle Alpi, e il massiccio del **monte Amiata** dalla caratteristica forma a cono tipica dei vulcani spenti. *e il monte Argentario*  
I fiumi principali sono l'**Arno** e l'**Ombrone**.

Arcid-ovest



▲ Un lungarno a Firenze, cioè una strada che costeggia il fiume Arno.

Le **coste** sono generalmente **basse e sabbiose**, a eccezione di una zona rocciosa tra Livorno e Piombino. Lungo le coste sono presenti alcuni tomboli. Appartengono alla regione anche le isole che costituiscono l'**Arcipelago Toscano** di cui fa parte la terza isola italiana per estensione: l'**isola d'Elba**. Il **clima è continentale** all'interno con inverni rigidi ed estati fresche e **mite** sulle coste.

**Tomboli:** zone sabbiose che, lungo le coste, uniscono la terraferma a isole.

### Elementi umani: popolazione, insediamenti e vie di comunicazione

Le **zone più densamente popolate** si trovano **attorno a Firenze, nell'area tra Livorno, Prato e Pisa** e lungo la fascia costiera che si estende vicino a **Viareggio**. Il resto della regione, in particolare le zone appenniniche, è scarsamente popolato.

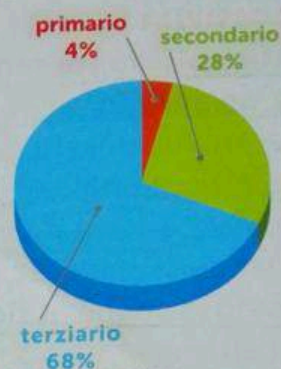
La città più importante è **Firenze**, splendido centro urbano ricco di palazzi, musei e chiese, famosa in tutto il mondo per le opere d'arte che racchiude. Nella regione sono presenti **due aeroporti internazionali** (Firenze e Pisa) e **due porti (Livorno e Piombino)** importanti per il transito soprattutto di passeggeri verso le isole d'Elba, Sardegna e Corsica.

### Imparo a...

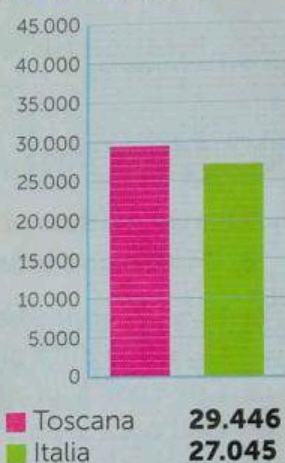
#### Ricavare informazioni da una carta

● Osserva la carta e scrivi il nome delle isole che costituiscono l'Arcipelago Toscano.

### Settori produttivi



### PIL pro capite (in Euro)



### Grandi personaggi

#### Amerigo Vespucci

**Amerigo Vespucci**, nato a Firenze nel 1454, è stato un grande navigatore ed esploratore. Egli capì che le terre dove era giunto Colombo non appartenevano all'Asia, ma erano un nuovo continente. Il nome "America" deriva proprio da Amerigo Vespucci.



**Le attività umane: il settore primario**


**L'agricoltura toscana è ben sviluppata** e i campi producono cereali, foraggio, ortaggi (carciofi, asparagi...) e frutta, mentre dai boschi si ricavano castagne e funghi.

Nelle zone collinari si coltivano l'**ulivo**, da cui si ricavano oli pregiati, e l'**uva da vino** che permette la produzione di vini prestigiosi e apprezzati anche all'estero.

È diffusa anche la **floricoltura**.

Gli **allevamenti** non sono numerosissimi, ma vi si allevano **razze pregiate bovine** (come la chianina) che danno carni prelibate.

Negli ultimi anni si è dedicata molta attenzione alle **coltivazioni biologiche** e al recupero di antichi prodotti agricoli e di razze da allevamento poco conosciute.



▲ Vigneti nella zona del Chianti.

**Imparo a...****Ricavare informazioni dal testo**

► Studia con attenzione e rispondi a voce alle domande.

- In quali zone si concentra la popolazione della regione?
- Qual è la città più importante? Che cosa la caratterizza?
- Che cosa si produce nei campi?
- Che cosa si coltiva sulle colline?



► Alcuni esemplari di razza chianina.

**Cortona e la cinta muraria etrusca**

La città di Cortona, in provincia di Arezzo, è costruita **in cima a una collina**, in posizione dominante, come molti altri centri urbani toscani che erano realizzati nel passato in posizioni sopraelevate per meglio difendersi.

Oltre alla posizione difensiva sul colle, la città era **racchiusa entro una cinta muraria** che è stata realizzata dagli **Etruschi** nel IV e III secolo a.C.

Le robuste mura sono composte da **grandi blocchi di pietra** squadrati e sovrapposti e sono lunghe più di 2,5 chilometri.

Quando i Romani si impossessarono della città, la cinta muraria venne danneggiata e poi in parte rifatta, con l'aggiunta di quattro porte di accesso.

**I segni della Storia sul territorio**

▲ Ancora oggi la città è racchiusa dentro le antiche mura.

### Il settore secondario



Il **settore industriale è ben sviluppato** ed è costituito soprattutto da imprese di piccole e medie dimensioni.

Si evidenziano alcuni **distretti industriali** ben specializzati: nella **Valdarno si concia e si lavora la pelle**; a **Prato sono presenti il tessile e i filati, in particolare di lana**; a **Carrara l'estrazione dei marmi**; ci sono **cantieri navali a Livorno e Viareggio**; si producono **calzature a Firenze, Lucca e Pisa**.

A **Pontedera** è localizzata la **produzione di motori per aerei, cicli e ciclomotori**; l'**industria siderurgica** è presente a **Piombino** (produzione della ghisa) e a **San Giovanni Valdarno**.

Per l'agroalimentare, sono importanti la **produzione di pasta secca, olio e vini**.

Nella zona di **Larderello** si **produce energia** grazie allo sfruttamento dei soffici boraciferi.



### Il settore terziario

In **Toscana** sono localizzate varie **città d'arte** che tutto il mondo ci invidia per le bellezze artistiche che le caratterizzano: oltre a **Firenze**, vanno ricordate **Siena, Pisa, Arezzo, Lucca**.

Nelle zone collinari il **paesaggio particolarmente bello** contribuisce, unito al buon cibo, ad attirare turisti.

Lungo le coste sono presenti diversi **centri balneari** importanti, come **Forte dei Marmi, Viareggio, Punta Ala, Castiglione della Pescaia**; il **settore turistico** è ben sviluppato anche nell'isola d'Elba.

Nel territorio sono inoltre presenti vari **centri termali** le cui acque benefiche sono famose (**Montecatini, Chianciano, Saturnia...**).

▲ La Torre di Pisa nella piazza detta "Campo dei miracoli".

### Imparo a...

#### Realizzare una carta tematica

Prendi una carta della regione Toscana ed evidenzia con colori differenti i diversi tipi di centri turistici che trovi citati nel paragrafo dedicato al settore terziario:

- le città d'arte
- i centri balneari
- i centri termali

Non dimenticare di realizzare una legenda in cui indichi i colori e i centri corrispondenti.